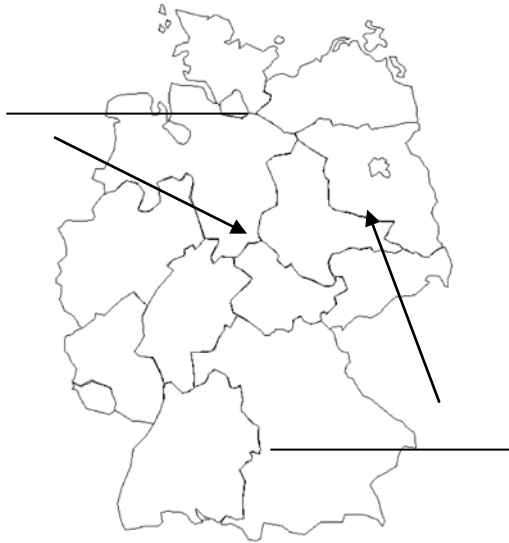


Eingemauert ! Die innerdeutsche Grenze – Arbeitsblatt

I. Benutzen Sie das Video, um die Dokumente zu ergänzen :

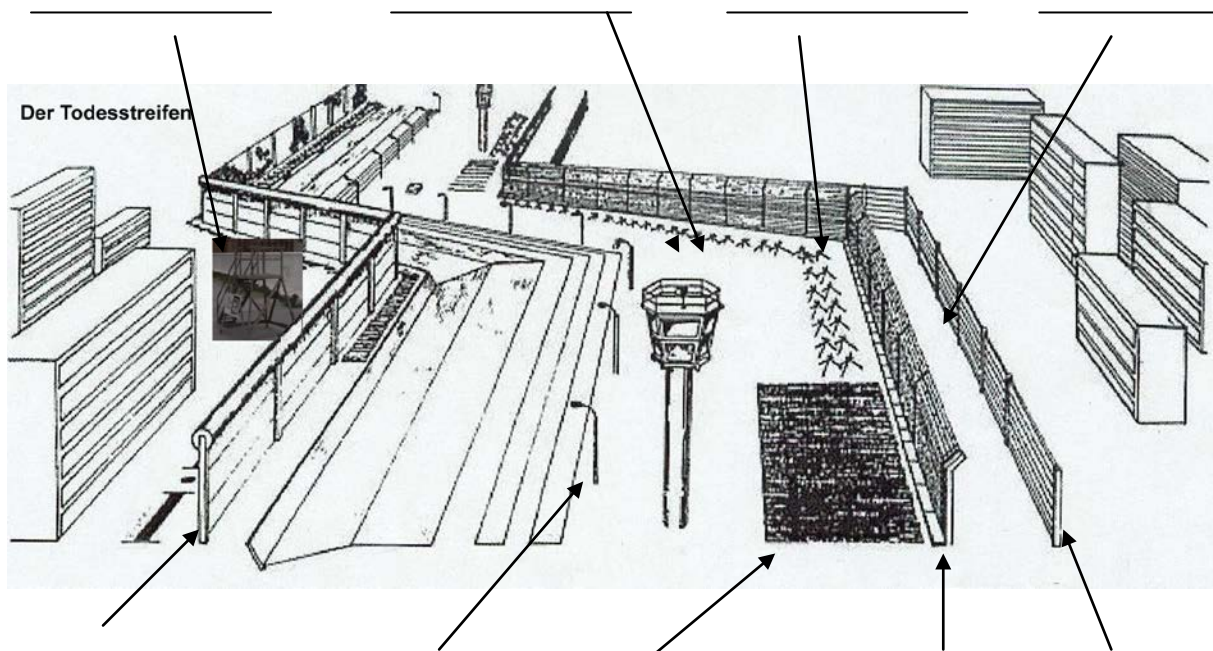
Dok 1: Markieren Sie die innerdeutsche Grenze rot. Welche politischen Systeme herrschen auf beiden Seiten?



Dok 2 : Ergänzen Sie mit den korrekten Informationen über die Berliner Mauer:



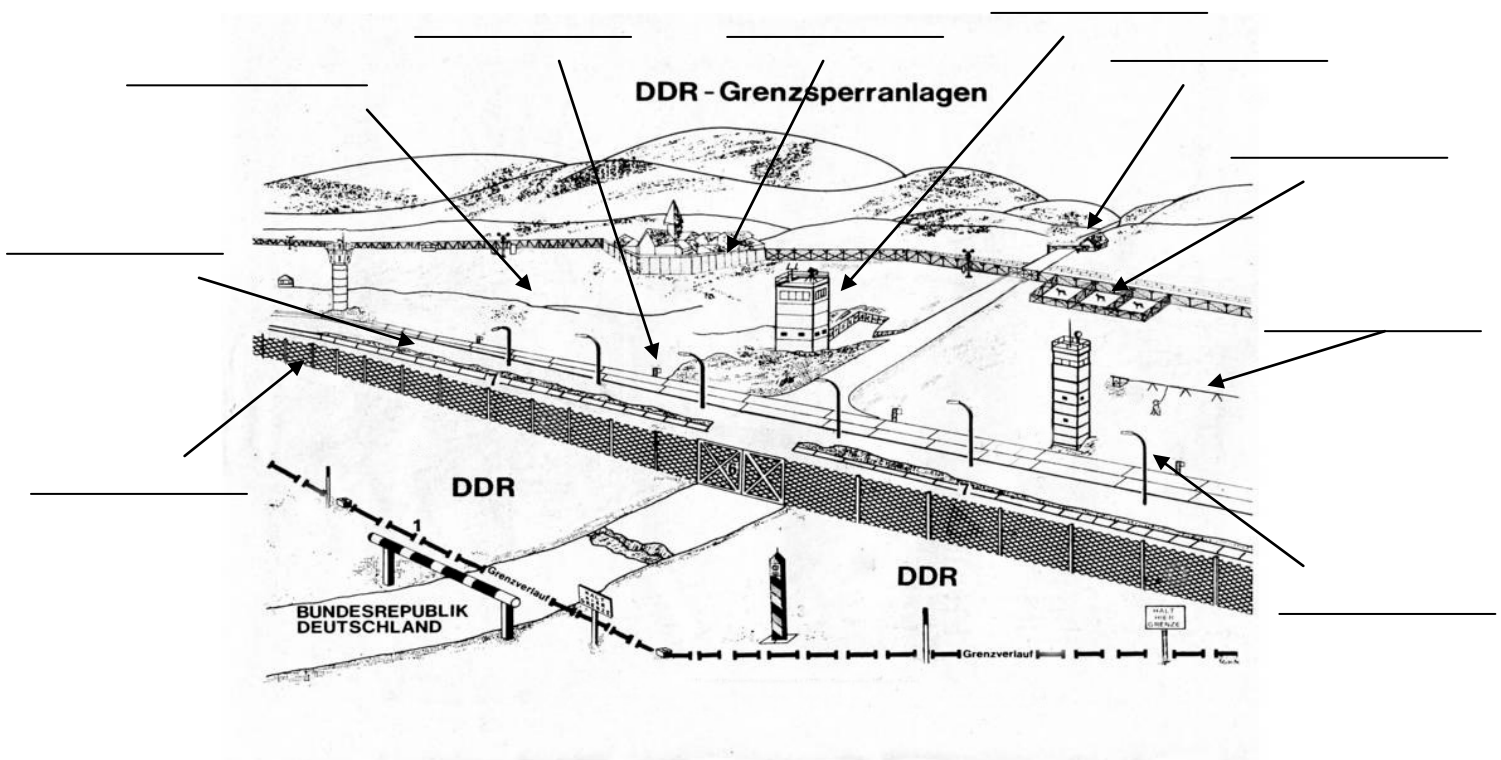
Dok 3 : Beschriften Sie mit folgenden Wörtern : *Patrouillenweg, Sperren, erste Mauer, Beleuchtung, Berliner Mauer, Spachtelbrett, Wachturm, Beobachtungsplattform, Signalzaun* :



Dok 4 : Ergänzen Sie den Script mit folgenden Wörtern : *Grenzstreifen, Grenztruppen, Grenzanlage, Grenzsperrren, Grenzgebiet, Grenze, Grenzler, Grenzsoldaten, Todesstreifen :*

„Mitten in der DR liegt Berlin. Die Stadt ist seit Ende des zweiten Weltkriegs in 4 Sektoren geteilt. 1961 wurden die westlichen Sektoren mit einer rund 151 Km langen _____ abgeriegelt, der Mauer. Ostberlin, Anfang der achtziger Jahre. Die Ackerstraße führt an die _____ nach Westberlin. Wer hier hin will, braucht eine Sondergenehmigung, zum Beispiel, um den Friedhof zu besuchen. Er liegt seit dem Bau der Mauer im _____. Hier beginnen die eigentlichen _____. Weiter gehen ist lebensgefährlich. Was hinter dieser Mauer liegt, darf kein normaler DDR-Bürger betreten: den streng bewachten _____. Er wird ständig ausgebaut. Auf dem Patrouillenweg außerhalb des _____ kontrollieren nicht nur Soldaten, sondern auch Volkspolizei und andere. Fluchtverhinderung in der DDR, eine aufwendige, kostspielige Aktion. 2 Soldaten bewachen in diesem Bereich 200 Meter. Insgesamt sind die _____ in Berlin 12000 Mann stark. Das nächste Hindernis: der Signalzaun. Wer ihn anfasst, löst einen stillen Alarm aus. Im Wachturmsehen die Soldaten sofort, wo der Zaun berührt wurde. Ein Flüchtling merkt davon nichts, aber die Wachen haben ihn bereits entdeckt. Von ihrem Turm aus können sie andere _____ alarmieren. Die _____ ist nachts taghell beleuchtet. Im Westen wird dieser Bereich _____ genannt. Hier schießen die DDR-Wachtposten als äußerstes Mittel auf Flüchtende. Allein an der Berliner Mauer gibt es 136 Tote. Mitten in der _____, die Versöhnungskirche. Der Mauerbau teilt sie von der dazugehörigen Gemeinde, die im Westteil der Stadt liegt. Das DDR-Regime lässt die Kirche 1985 sprengen. Möglicher Grund: sie macht die _____ unübersichtlich. Diese Sperren stoppen alle Fahrzeuge, ob von Flüchtlingen oder _____. Auf der anderen Seite liegt ein Stahlteppich mit 14 cm langen Dornen. Im Westen heißt er Stalinrasen, die DDR-_____ nennen ihn „Spachtelbrett“. Die Erde wird regelmäßig geglättet, so dass jeder Flüchtende Spuren hinterlässt. Und das ist die bekannte Berliner Mauer. 3 Meter 60 hoch, die letzte Sperre vor dem Westen. Die Mauer gehört auf ihrer Westseite noch zur DDR, deshalb hat sie an einigen Stellen Türen. _____ können sie nur zu zweit öffnen. So kontrollieren sie den Zustand der Mauer auch auf der anderen Seite. An manchen Straßenkreuzungen ist der Stahlbeton nicht verschweißt, Sollbruchstellen. Im Kriegsfall sollen hier Panzer nach Westen durchbrechen. (...) Es gibt Beobachtungsplattformen, anfangs für die Westberliner Polizei, dann für Touristen. Dieser Blick auf die Bernauer Straße zeigt, die _____ in Berlin ist weit mehr als nur eine Mauer.“

Dok 5 : Beschriften Sie das Schema mit folgenden Vokabeln : *Alarmzaun, Turm, Hunde, Kolonnenweg, Signalgerät (rot), Minenfelder, Zaun, Kontrollstelle, Postensignalgerät (gelb), Sichtschutzmauer.*



II. Fragen zum Diskutieren :

1. Was war der eigentliche Zweck der Berliner Mauer?
2. Warum war die Mauer nötig?
3. Was diese Mauer Ihrer Meinung nach wirklich unüberwindbar?